

اختبار الفصل الثالث في نشاط الرياضيات

2,5

اكتب العدد الذي يسبق و الذي يلي.

السؤال الأول:

.... 988

.... 654

.... 471

.... 850

.... 395

1,5 أنجز العمليّات التّاليّة عمودياً.

السؤال الثاني:

$436 + 95 = \dots\dots\dots$	$560 - 225 = \dots\dots\dots$	$935 - 622 = \dots\dots\dots$

السؤال الثالث


1,5 3 تتألف مدرسة صغيرة من 5 أقسام في كل قسم 28 تلميذاً .

ما عدد تلاميذ المدرسة؟

الجواب

..... = =



عدد تلاميذ المدرسة



2

السؤال الرابع لاحظ الأشكال ثم أكمل الخانات

بما يناسب كل شكل

عدد الرؤوس	عدد الأحرف	عدد الأوجه	
..... 
..... 

الوضعية الإدماجية

في محطة نطال لبيع البنزين بقي بالخزان الكبير 998 لتراً باع صاحب المحطة في الصباح 480 لتراً وباع في المساء 285 لتراً.

2,5

• ما هي كمية المازوت المباعة في اليوم كله؟

• ما هي كمية المازوت المتبقية في الخزان؟