



## اختبار الفصل الثاني في مادة التربية العلمية

❖ النشاط 1: ألون كل عائلة تتكون من ذكر و أنثى بنفس اللون



❖ النشاط 2: أكمل :


1- عدد ايام شهر جانفي .....يوما

2- يوافق 1 جانفي يوم.....

3- يوافق 28 جانفي يوم.....

4- هل توجد دراسة يوم 6 جانفي .....

❖ النشاط 3: أرتب مراحل نمو الديك من 1 الى 4:



❖ النشاط 4: أضع العلامة x في الخانة المناسبة:

الأحداث	مُتزامنة	مُتتابة
رَسَمَت زَهْرَةً ثُمَّ لَوْنَتْهَا		
تَضَعُ الدَّجَاجَةُ البَيْضَ وَبَعْدَهَا يَفْقَسُ البَيْضُ		
أَنشِدُ وَ أَرْفَعُ العِلْمَ الوَطَنِي		
أَحْتَفِلُ بِعِيدِي ميلادي كُلِّ سَنَةٍ		