

الموسم : 2017/2016

اختبار الفصل الثاني
في مادة الرياضيات

المدرسة : أحمد بن بلة ، سيدي عيسى

القسم : السنة الثانية

المعلم : جزولي محمد

السند 1: أيقظت الأم سليمان على الساعة السابعة و الربع ، و بعد تناول إفطاره ، أعطته 560 ديناراً ، ليشتري بعض الخضروات .

التعليمة 1: ارسم عقارب الساعة حسب التوقيت الذي استيقظ فيه سليمان ، ثم أكتب التوقيت بالأرقام .


التعليمة 2: أحط القطع التي تمثل المبلغ الذي أعطته الأم لسليمان .



السند 2: عاد سليمان إلى الدار بعد ان اشترى الخضروات ، و أعاد لأمه مبلغاً قدره 96 ديناراً ، فمئنته مبلغاً قدره 55 ديناراً ، ليشتري أوراقاً للرسم .

التعليمة 1: احسب المبلغ الذي تبقى للأم .

التعليمة 2: اكتبه بالحروف .



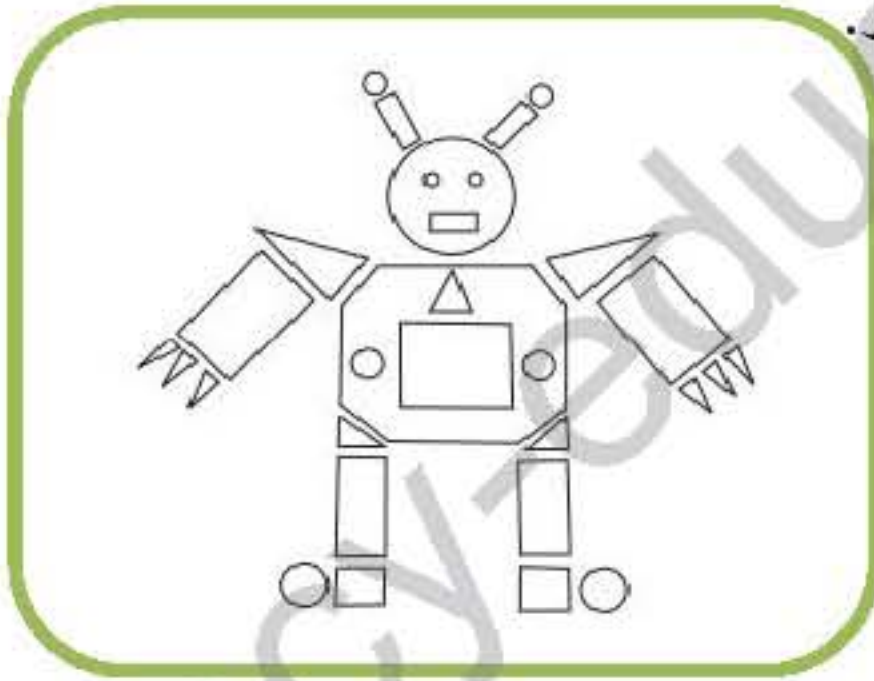
الإجابة :

كتابة العدد بالحروف :

السند 3: جلس سليمان ، و أخرج أدواته ، و رسم رجلاً آلياً ، رأت أخته سلمى الرسم ، فقالت له : طول هذا الرجل الآلي 15 متراً .

التعليمة 1: لون المثلثات بالأحمر ، و المربعات بالأزرق ، و المستطيلات بالأصفر .

التعليمة 2: صحح الخطأ الذي ارتكبته سلمى .




التصحيح :

السند 4: أراد الأخوان سليمان و سلمى ، أن يقدموا زجاجة عطر لجدتهما ، ثمنها 750 ديناراً . منحهما الأب 456 ديناراً و منحتهما الأم 337 ديناراً .

التعليمة 1: احسب المبلغ الذي جمعه الأخوان .

التعليمة 2: يرى سليمان بأن المبلغ الذي جمعه كاف ، تأكد من صحة قوله .



الإجابة :

المبلغ الذي جمعه لأن